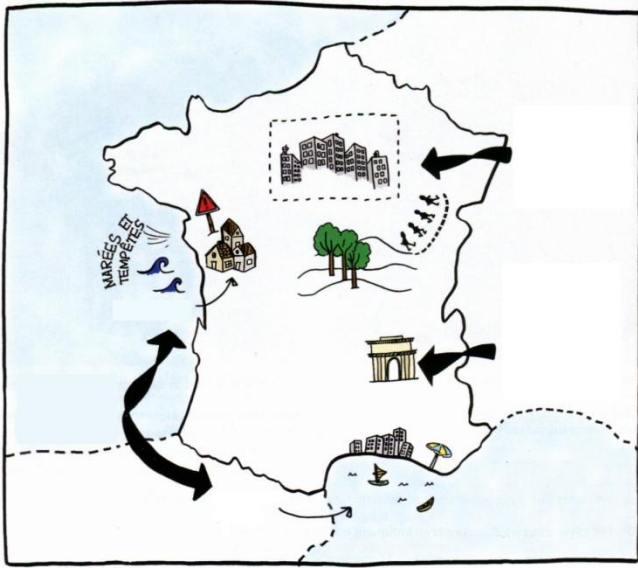




• Je sais caractériser le phénomène urbain en France

Vocabulaire : aire urbaine, densité de population, diagonale du vide

L'ÉVOLUTION DU TERRITOIRE DEPUIS 50 ANS

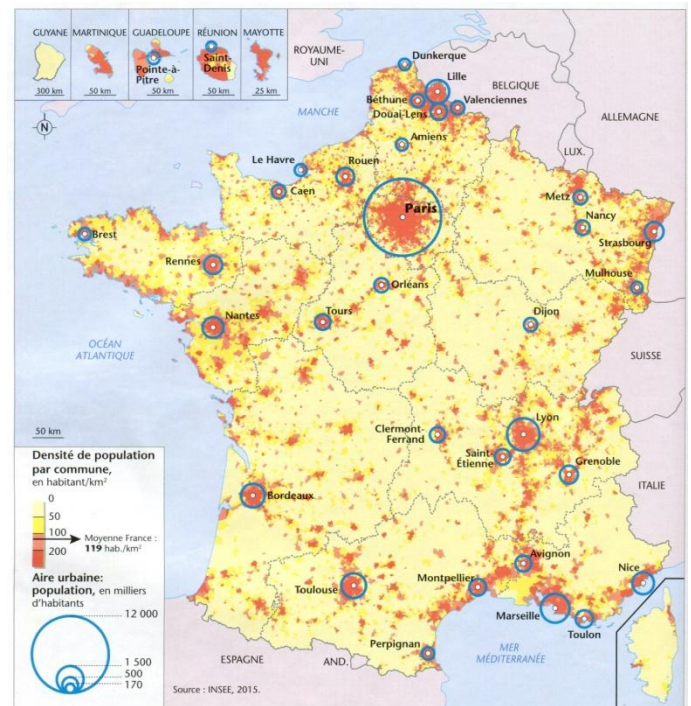
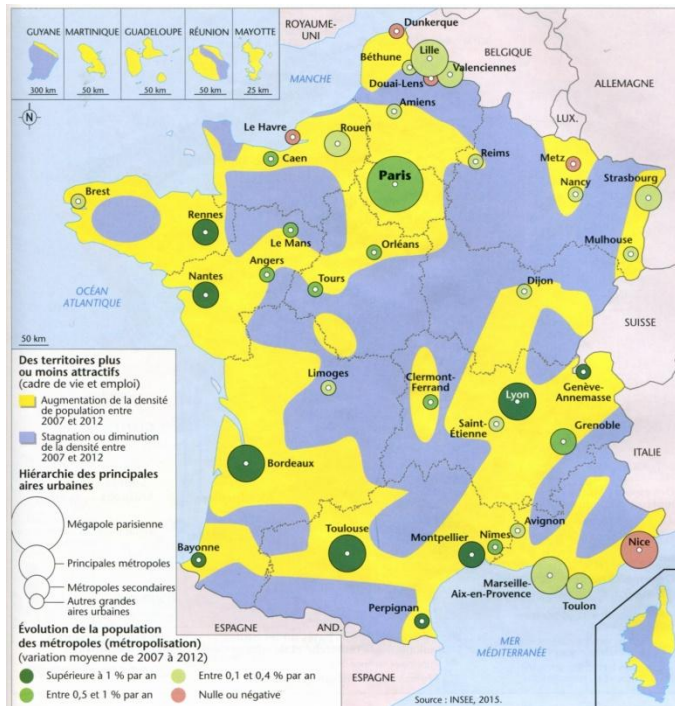


Quels sont les changements sur le territoire français depuis 50 ans ?

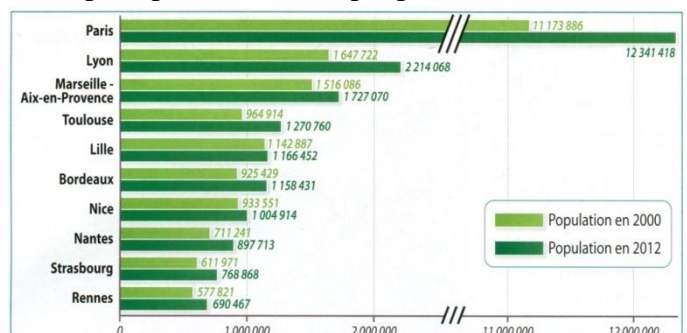
1. Les Français habitent-ils majoritairement en ville ou à la campagne ?
2. Quel est le phénomène principal, remontant au milieu du XIX^{ème} siècle, expliquant le peuplement actuel de la France ?
3. Quel est l'habitat symbolique des espaces périurbains français ?
4. Quel est le phénomène social récent dont l'impact a été déterminant au niveau de l'organisation du territoire ?



lienmini.fr/hgemc3-102



5. Quel lien pouvez vous faire entre les territoires attractifs et la densité de population ?
6. Quel phénomène observe-t-on dans les zones particulièrement peuplées ?
7. En observant les cartes, déduisez comment appelle-t-on l'espace peu densément peuplé en France.



8. En quelques lignes, décrivez l'évolution de la répartition de la population française de ces 50 dernières années.